

## Reading

Read and choose the best answers by blackening  the circles.

Menu		Meal Sets:	
Chicken wings	\$ 25	<b>Set A</b>	\$ 45
Pizza	\$ 40	• Sandwiches	
Sandwiches	\$ 18	• Salad	
Salad	\$ 30	• Orange juice	
Ice cream	\$ 5	<b>Set B</b>	\$ 36
Hot chocolate	\$ 12	• Chicken wings	
Orange juice	\$ 15	• Ice cream	

1. What food items does Set A have?



A.



B.



C.

2. Can you buy noodles from this restaurant?

A. Yes

B. No

3. How much is a cup of hot chocolate?

A. \$12

B. \$15

C. \$18

4. You have \$10. What can you buy?



A. pizza

B. salad

C. ice cream

## Vocabulary

A. Circle **six** food items that you can find in **both** pictures.



B. Write the names of the above six food items.

fish   rice   noodles   chicken  
banana   bread   milk   carrot

1. \_\_\_\_\_ 2. \_\_\_\_\_

3. \_\_\_\_\_ 4. \_\_\_\_\_

5. \_\_\_\_\_ 6. \_\_\_\_\_



## Reading

### A. Read and fill in the blanks.



Betty hears a sound.



Something smells good.



Betty sees a shadow.



Oh, it is Betty's mother!

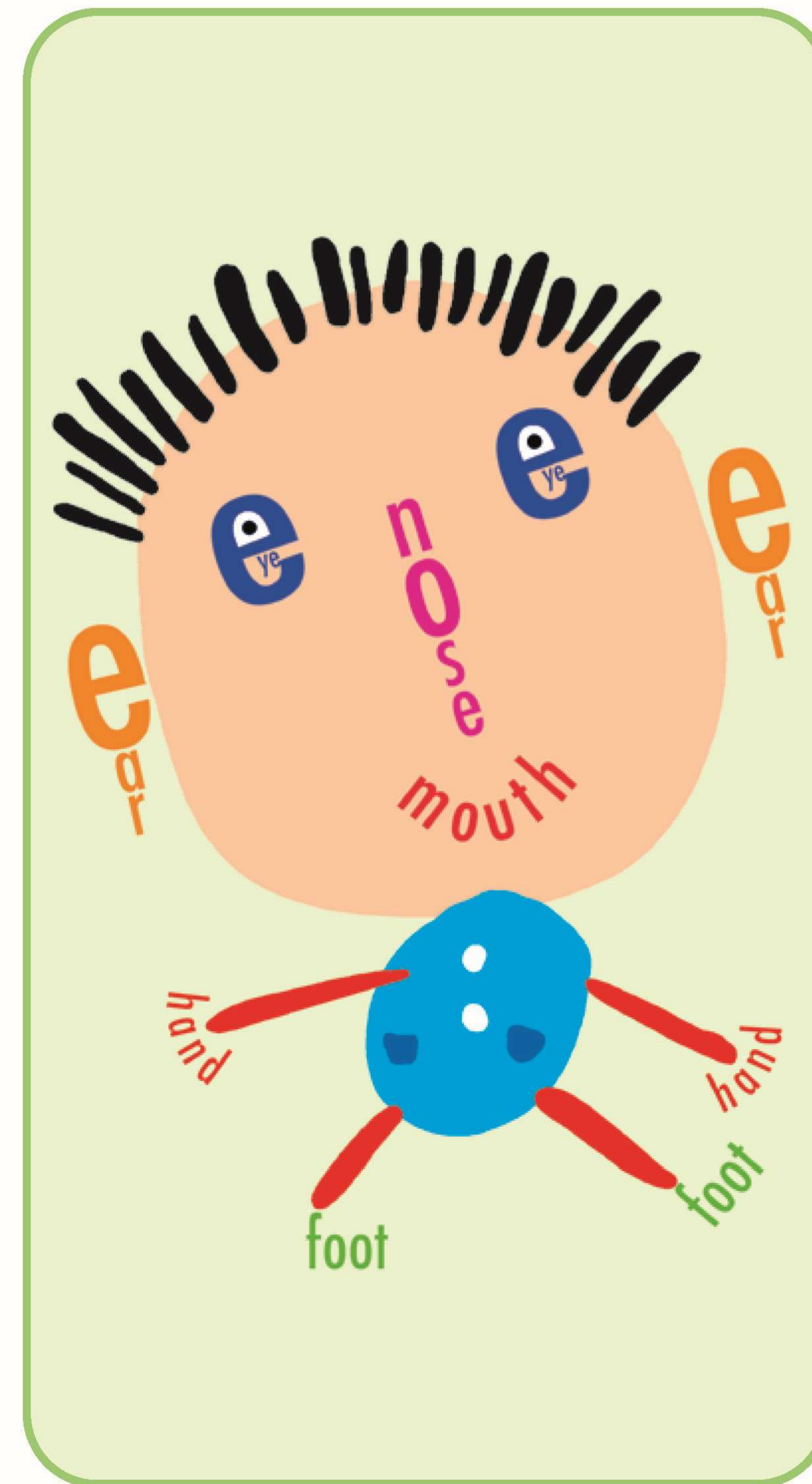
1. Betty \_\_\_\_\_ a sound.
2. Betty \_\_\_\_\_ a shadow.
3. The shadow is Betty's \_\_\_\_\_.







### B. Tick the best title for the story.

- Who is in the kitchen?
- Who is Betty?
- Betty in the kitchen

## Vocabulary

### Find the hidden words in the picture and fill in the blanks.



1.  \_\_\_\_\_
2.  \_\_\_\_\_
3.  \_\_\_\_\_
4.  \_\_\_\_\_
5.  \_\_\_\_\_
6.  \_\_\_\_\_



## 不同種類的動物

一. 觀察以下動物，在適當的方格內加✓。(答案可多於一個。)

				
外形特徵	有翅膀			
	有四肢			
	有鱗片			
	身體長有羽毛			
	身體長有毛髮			
活動方式	飛行			
	走動			
	游動			

二. 把以下的動物分類，在方格內填寫適當的英文字母。

- A. 松鼠    B. 小丑魚    C. 猴子    D. 神仙魚  
E. 兔    F. 金魚    G. 啄木鳥    H. 麻雀

1. A,

2. F,

3. G,

**小提示** 我們可把外形特徵和生活習性相同的動物歸為一類。

## 動物住在哪裏？

一. 選出適當的詞語填在橫線上。

沙漠    北極    竹林    草原

- 北極熊住在\_\_\_\_\_。
- 非洲的\_\_\_\_\_是斑馬的家。
- 駱駝可以多天不喝水，能適應\_\_\_\_\_的氣候。
- 大熊貓住在\_\_\_\_\_，每天吃大量的竹子。

二. 為甚麼北極熊能在冰天雪地生活？下面哪些關於牠們的描述是對的？在圓圈內加✓。

- 身上有厚脂肪和毛髮，可抵抗嚴寒天氣。  
 身體儲存大量水分，可多天不喝水。

- 腳底長有厚毛，方便在冰上行走。  
 腳底的厚毛可用來清潔身體。


- 不懂游泳，只在陸上找食物。  
 可以長時間不進食。






### 環保小勇士

一. 以下的小朋友懂得珍惜資源。在橫線上填寫適當的詞語。

1.  我會珍惜用 \_\_\_\_\_，洗手後會關緊水龍頭。

我家改用省電燈泡，可減少用 \_\_\_\_\_。

2. 

二. 閱讀以下的新聞，然後回答問題，寫下你的意見，並在圓圈內加✓。

### 香港人習慣浪費食物

【本報訊】根據調查發現，很多香港人外出用膳時也會吃剩食物，餐廳要把大量食物丟掉。環保組織希望政府加強宣傳教育，鼓勵人們珍惜食物。

1. 香港人有甚麼壞習慣？

\_\_\_\_\_

\_\_\_\_\_

2. 以上情況帶來甚麼影響？

- 製造大量垃圾
- 浪費資源
- 製造噪音

3. 你會用甚麼方法來減少浪費食物？

\_\_\_\_\_

三. 以下的措施怎樣改善環境？把適當的星星塗色。(答案可多於一個。)

1. 	<input type="checkbox"/> 改善空氣質素 <input type="checkbox"/> 減少垃圾
2. 	<input type="checkbox"/> 資源再用 <input type="checkbox"/> 減少垃圾
3. 	<input type="checkbox"/> 節約能源 <input type="checkbox"/> 減少噪音

四. 你願意成為環保小勇士嗎？在橫線上填寫適當的詞語，然後簽名。

回收箱 用電 購物袋 再造紙

### 環保小勇士約章

我願意：

1. 自備 \_\_\_\_\_ 購物，不用塑料袋。
2. 把廢物分類放入 \_\_\_\_\_，方便循環再造。
3. 節約 \_\_\_\_\_，珍惜能源。

我的簽名：\_\_\_\_\_




一 下面的環保袋盛了甚麼東西？數量是多少？在方格內填上正確數字。

**小提示** 算式  $1 + 2 = 3$  唸作 1 加 2 等於 3。  
加號 ← → 等號




3 加 3 等於 。

$$3 + 3 = \square$$




6 加 4 等於 。

$$6 + 4 = \square$$



5 加 8 等於 。

$$\square + \square = \square$$



加  等於 。

$$\square + \square = \square$$

二 計算各款環保袋的數量，在方格內填上正確數字。

1. 有 5 個，有 1 個，  
共有環保袋多少個？

共有環保袋： $5 + 1 = \square$  (個)

直式：

$$\begin{array}{r} 5 \\ + 1 \\ \hline \square \end{array}$$

2. 有 4 個，有 3 個，  
共有環保袋多少個？

共有環保袋： $\square + \square = \square$  (個)

直式：

$$\begin{array}{r} 4 \\ + 3 \\ \hline \square \end{array}$$

3. 有 2 個，有 6 個，  
共有環保袋多少個？

共有環保袋： $\square + \square = \square$  (個)

直式：

$$\begin{array}{r} \square \\ + \square \\ \hline \square \end{array}$$

## 挑戰站

15 個印花可以換一個環保袋。我有 11 個印花，表姐給我 5 個印花，我可以換到一個環保袋嗎？

我有印花： $\square + \square = \square$  (個)

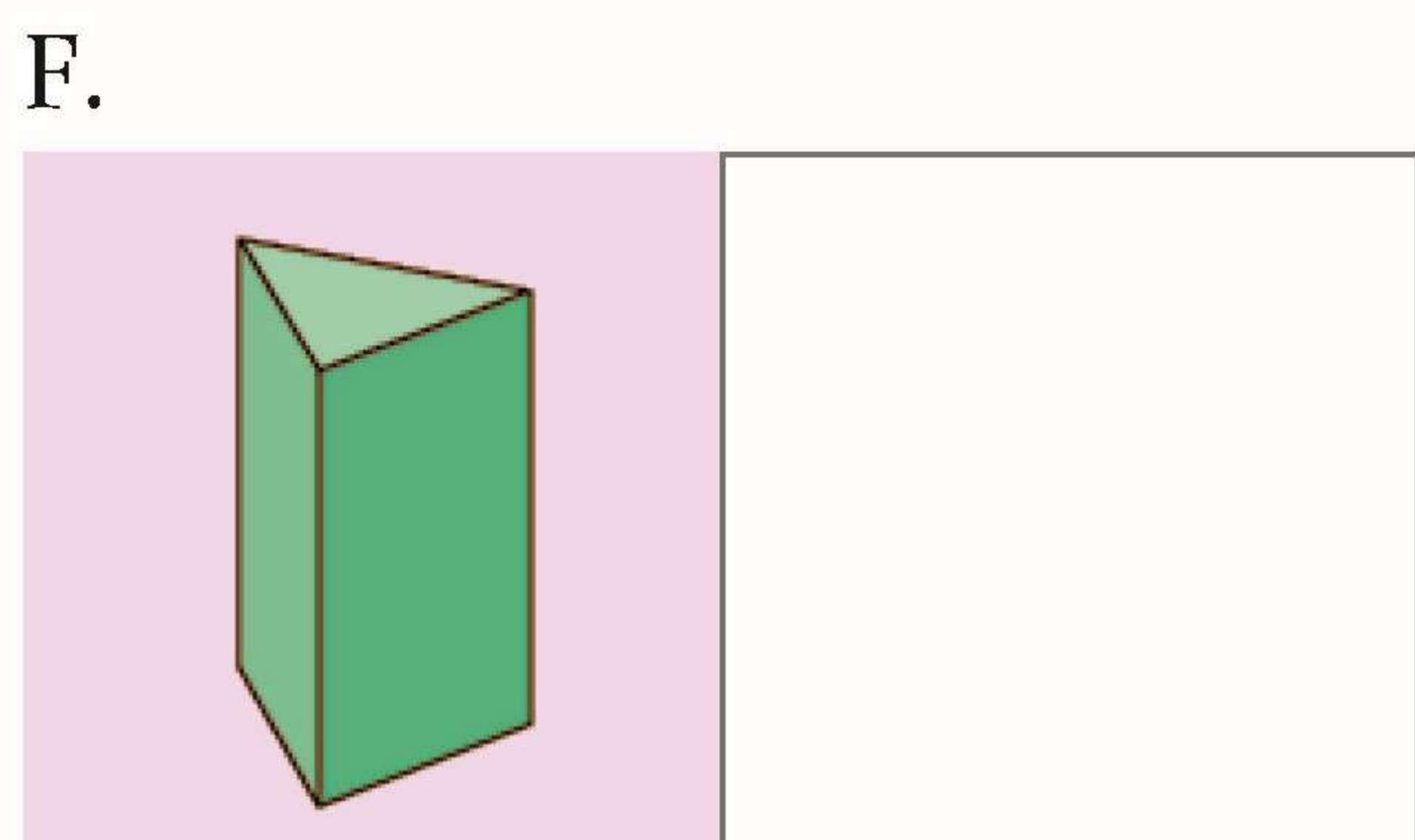
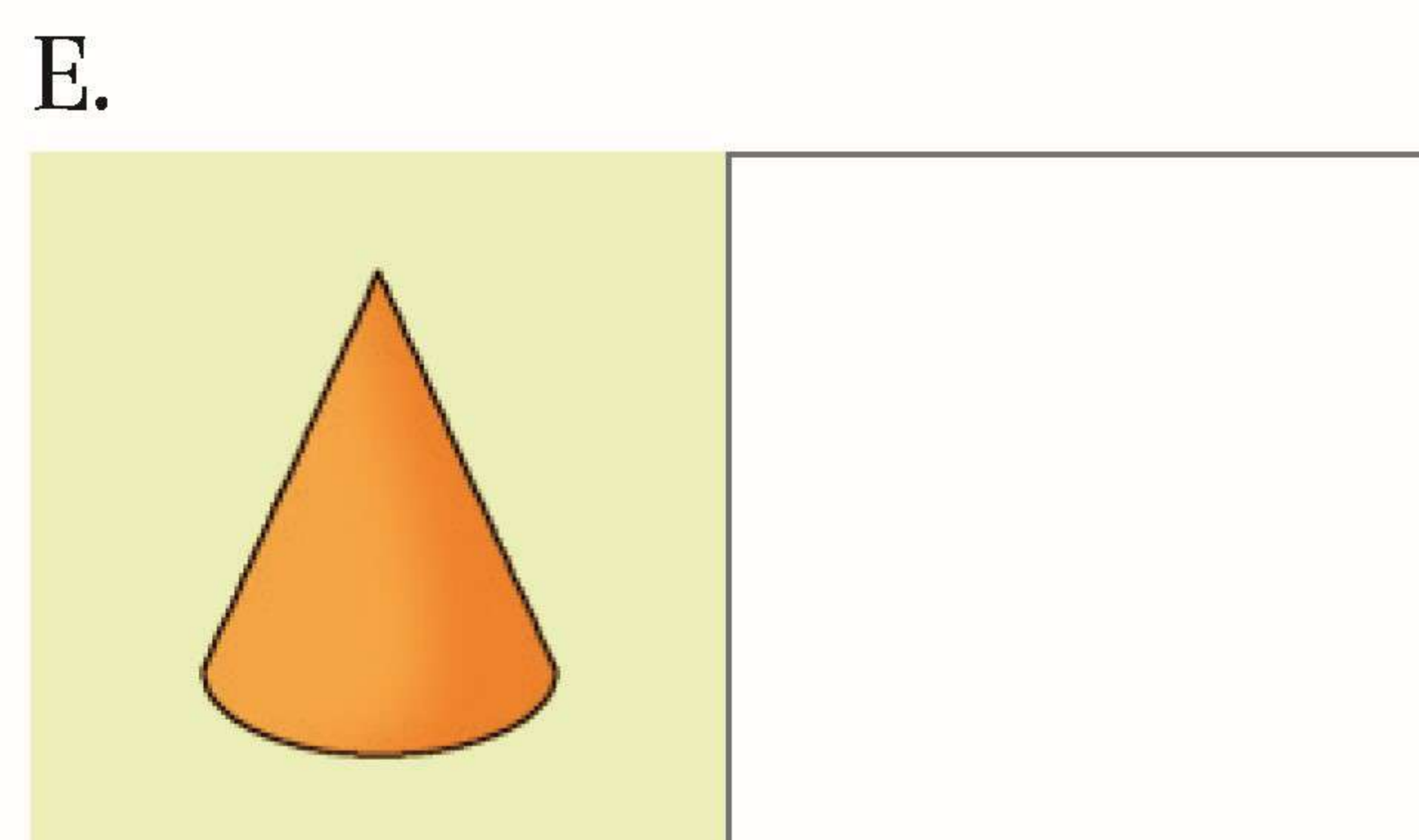
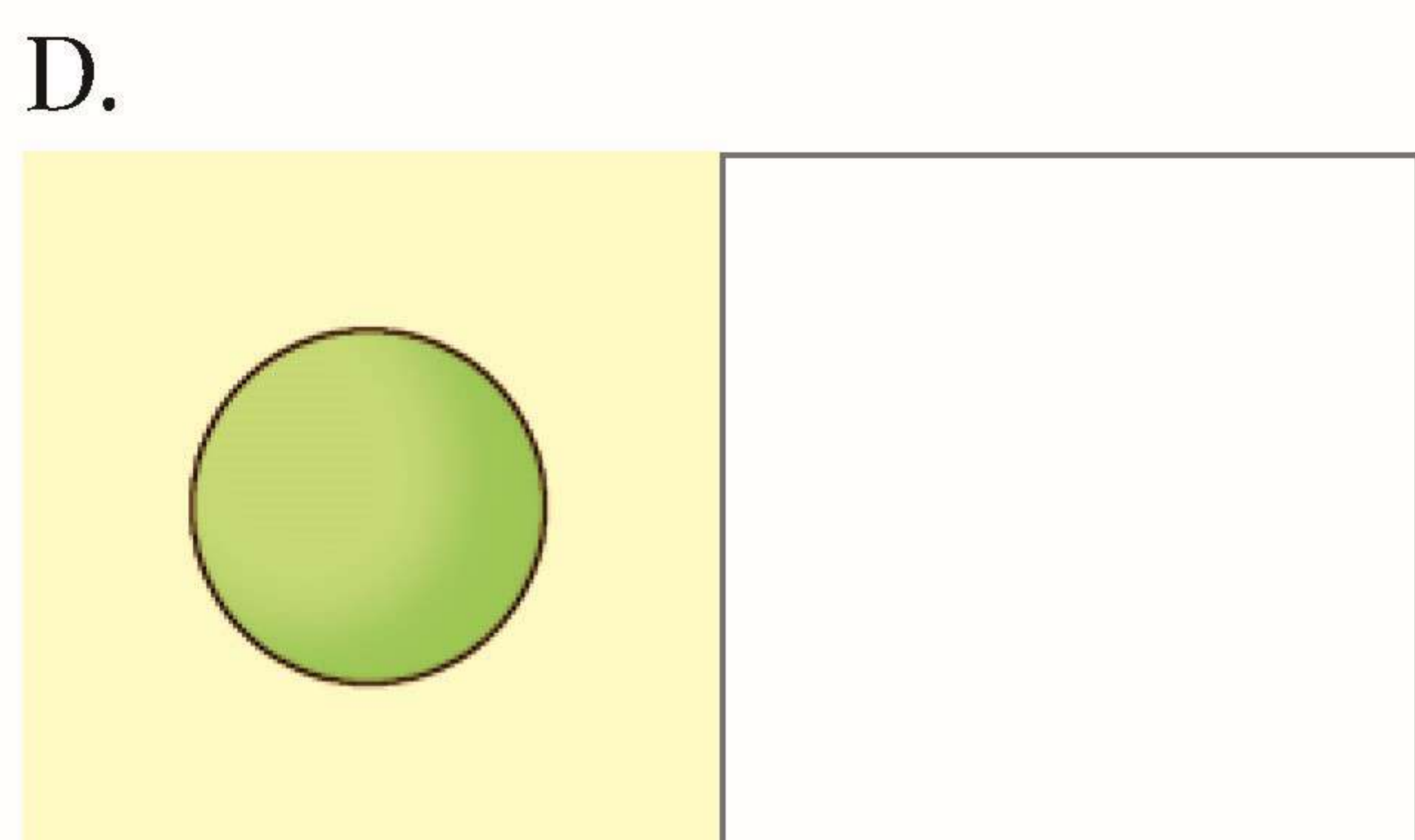
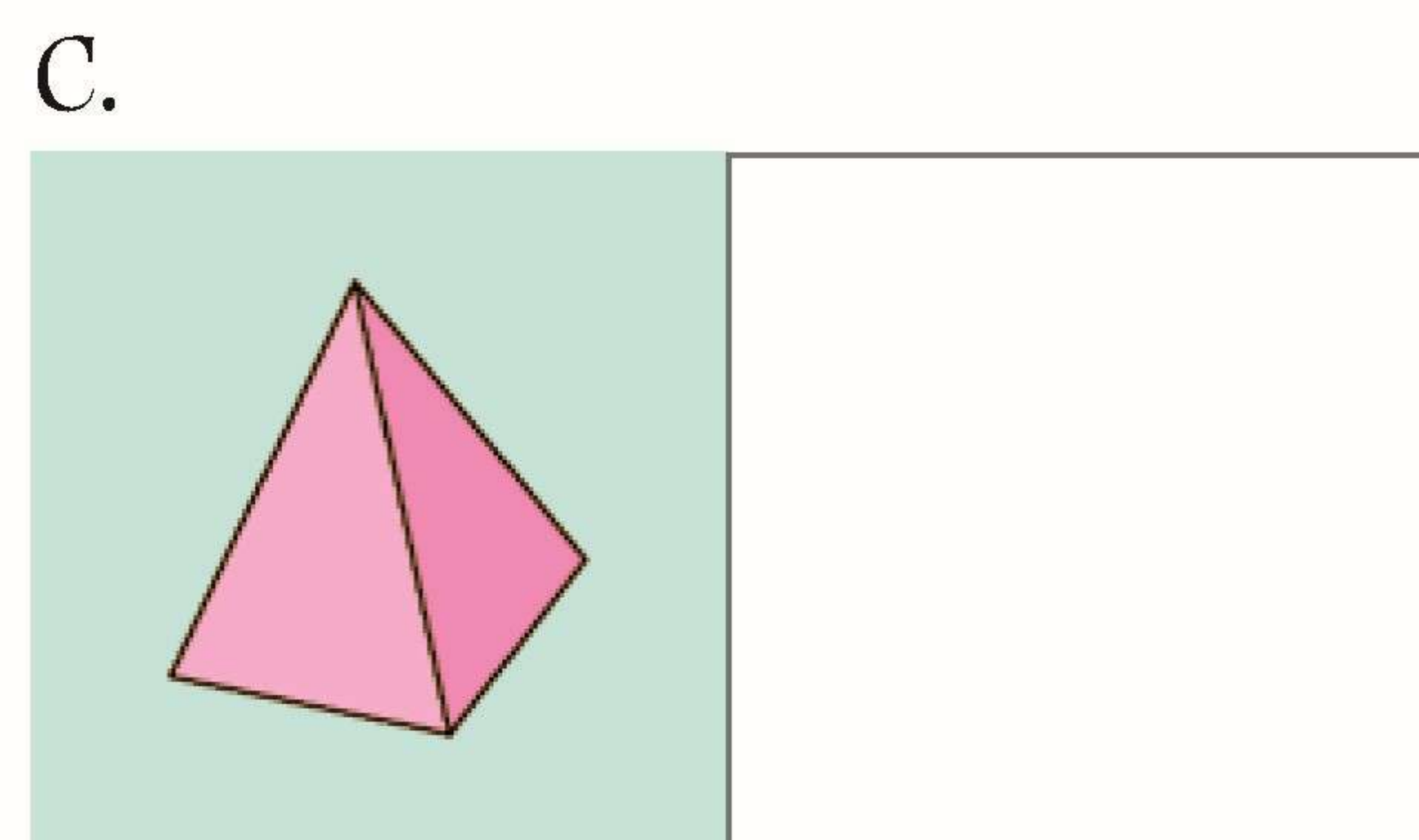
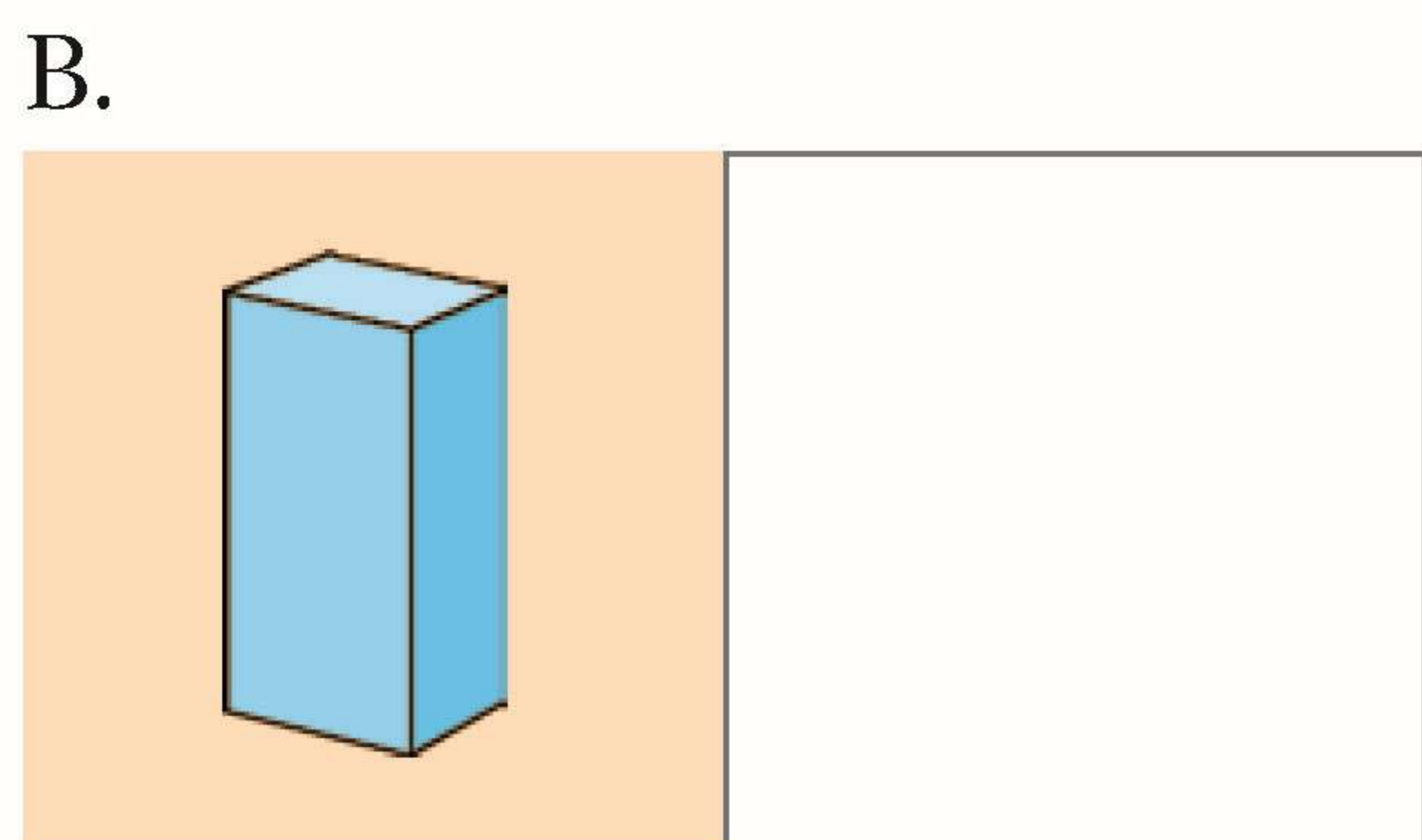
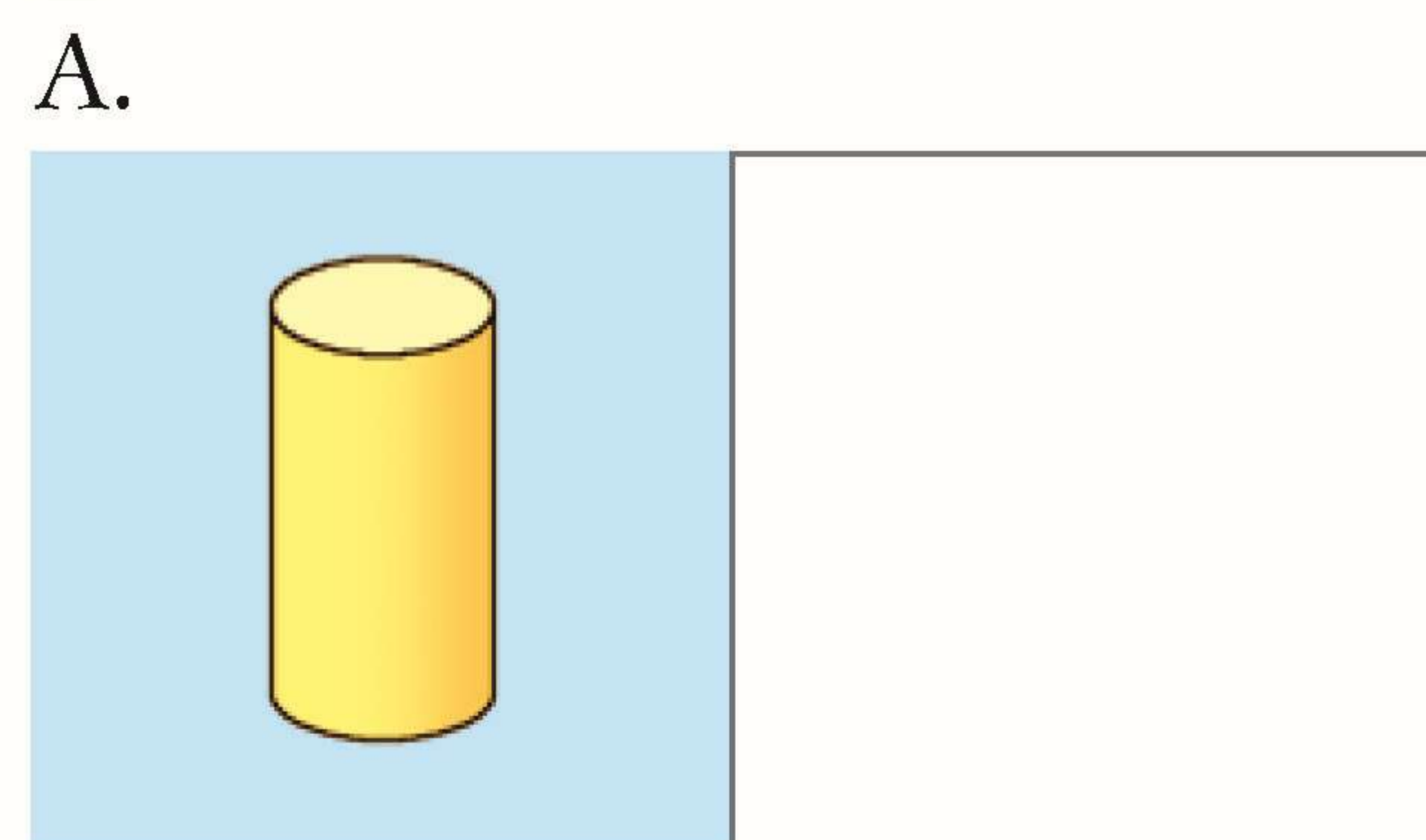
我  可以 / 不可以 換到一個環保袋。

直式：

$$\begin{array}{r} \square \\ + \square \\ \hline \square \end{array}$$



一 小畫家畫了不同立體圖形，在方格內貼上相同圖形的貼紙。



二 請把以上的立體圖形分類，在橫線上填上正確英文字母。


1. 柱體： \_\_\_\_\_

2. 錐體： \_\_\_\_\_

3. 球體： \_\_\_\_\_

三 小畫家畫了一幅有趣的圖畫。按指示把圖畫上的圖形塗色。

圓形：  三角形：  四邊形：   
五邊形：  六邊形： 



四 按上題形狀提示和圖畫內容，在橫線上及方格內填上答案。

1.  用了 3 個 \_\_\_\_\_ 形。

2.  由 \_\_\_\_\_ 形和 \_\_\_\_\_ 形組成。

3.  由  個圓形組成。

4.  由  個三角形和 1 個 \_\_\_\_\_ 形組成。